




② 時こくと時間のもともめ方


3年	組	番
名前		


① 何時何分ですか。

① 

② 

③ 

④ 

⑤ 

② ^{つぎ} 次の時こくを答えましょう。

① 午後5時から15分後の時こく

② 午前10時より30分前の時こく

③ にあてはまる数を書きましょう。

① 1日 = 時間

② 1時間 = 分

③ 1時間30分 = 分

^{つぎ} ^{もんだい} ^{がくしゅう} 次の問題は、まだ学習していない内ようです。

① りかさんの家から学校までは20分かかります。7時50分に家を出ると、何時何分に学校につきますか。

