

② 時こくと時間のもともめ方

3年 組 番

名前

① 次の時こくをもとめましょう。

〈各15点〉

① 午前9時40分から30分後の
時こく



② 午後5時20分より40分前の
時こく



③ 午前8時15分より30分前の
時こく

② まさきさんは、午後3時40分から
午後4時30分まで遊あそんでいました。
遊あそんでいた時間は何分ですか。

〈15点〉



③ ゆきさんは、きのう40分、今日は
1時間30分読書をしました。

2日間で読書をした時間は、
あわせて何時間何分ですか。 〈20点〉



④ りかさんの家での勉強べんぎょうの時間は
40分です。

午後3時40分から勉強をはじめると、
勉強おが終わるのは午後何時何分ですか。




〈20点〉



② 時こくと時間のもともめ方

| | | |
|----|---|---|
| 3年 | 組 | 番 |
| 名前 | | |

① 時計を見て、まりこさんが花を植えたお話をつくりましょう。
 にあてはまる数を書きましょう。



お話
 まりこさんは、午後 時 分から、午後 時 分まで
 花を植えました。花を植えていた時間は 分です。

② にあてはまる時間のたんいを書きましょう。

- ① 今日の算数のじゅぎょう時間は45 でした。
- ② きのうの夜から今日の朝まで、10 ねました。
- ③ うんどう場のトラックを走ってしゅうするのに、55 かかりました。



「時こくと時間のもともめ方」の学習をふり返ってみましょう。

① あなたにあてはまる記号を()に
 書きましょう。

- ◎ とてもよくできた。
- できた。
- △ あまりできなかった。

- ① すすんで学習できたか。()
- ② いろいろなやり方でちょうせんできたか。()
- ③ 考え方のよいところをたくさん見つけられたか。()

② 学習して思ったことや、さらに学習してみたいことを書きましょう。