

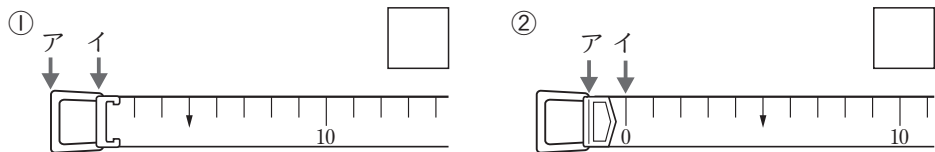
長いものの長さのはかり方と表し方

3年 組 番

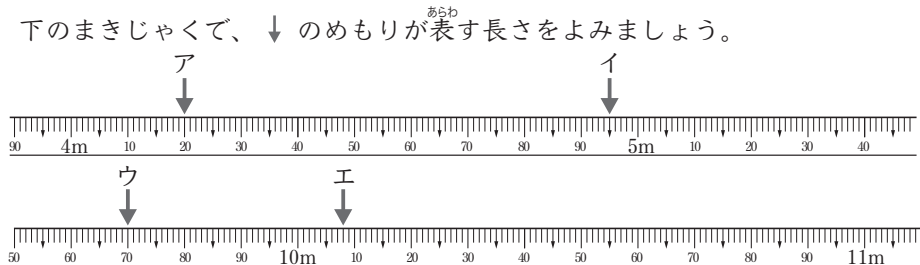
名前 _____

めあて：長さのたんいとはかり方がわかり、
長さを表すことができる。

① 下の2つのまきじゃくの0のところは、それぞれア、イのどちらですか。



② 下のまきじゃくで、↓のめもりが表す長さをよみましょう。



| | | | |
|---|----------------------|---|----------------------|
| ア | <input type="text"/> | イ | <input type="text"/> |
| ウ | <input type="text"/> | エ | <input type="text"/> |

③ 下の長さをはかります。㊦、㊩、㊨のどれを使いますか。

- ① ろう下の長さ.....
- ② つくえの高さ.....
- ③ 木のまわりの長さ.....
- ④ 教科書のたての長さ.....

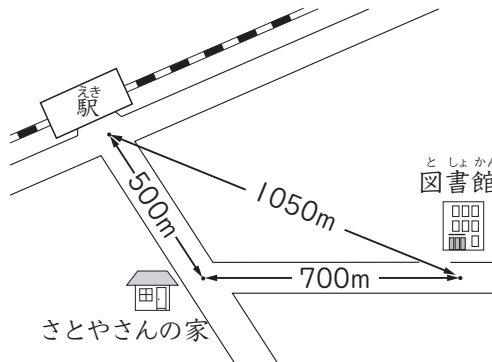
④ □にあてはまる数を書きましょう。

- ① 4km = m
- ② 5000m = km
- ③ 2km630m = m
- ④ 5km70m = m
- ⑤ 3020m = km m

⑤ 正しい長さに○をつけましょう。

- ① 教室のたての長さ [2m50cm、7m20cm、80m30cm]
- ② 学校から家までの道のり [150cm、150m、150km]

⑥ 下の絵地図を見て答えましょう。



① 駅から図書館までのきょりは何mですか。また、何km何mですか。

| | | |
|----------------------|-------------------------|------------------------|
| <input type="text"/> | <input type="text"/> km | <input type="text"/> m |
|----------------------|-------------------------|------------------------|

② 駅から図書館までの道のりは何mですか。また、何km何mですか。

| | | |
|----------------------|-------------------------|------------------------|
| <input type="text"/> | <input type="text"/> km | <input type="text"/> m |
|----------------------|-------------------------|------------------------|