

ぼうグラフと表①

めあて：ぼうグラフを、よんだりかいたりすることができる。

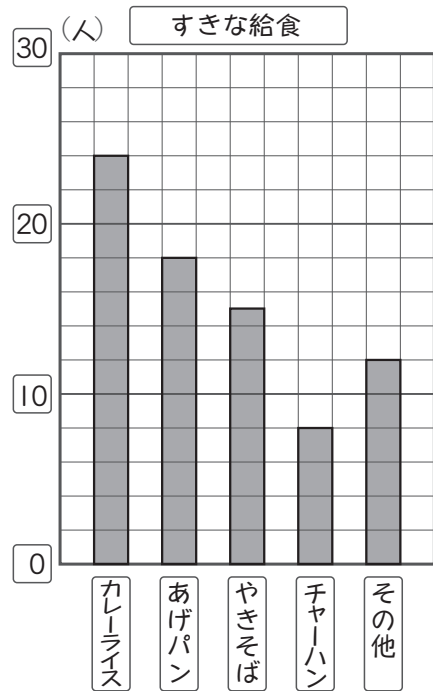
3年 組 番

名前

① はやとさんたちは、3年生の好きな給食のメニューを調べて、下のグラフに表しました。

① グラフの1めもりは、何人を表していますか。

② グラフをよんで、表に人数をかきましょう。

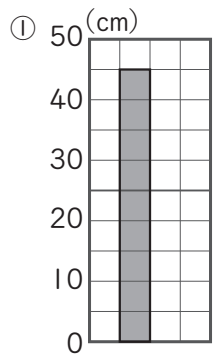


メニュー	人数 (人)
しゅるい	
カレーライス	
あげパン	
やきそば	
チャーハン	
その他	
合計	

③ カレーライスの人数は、あげパンの人数より、何人多いですか。

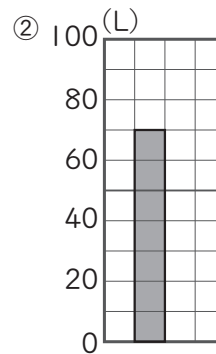
④ カレーライスの人数は、チャーハンの人数の何倍ですか。

② 下のぼうグラフで、1めもりが表している大きさと、ぼうが表している大きさをいみましょう。



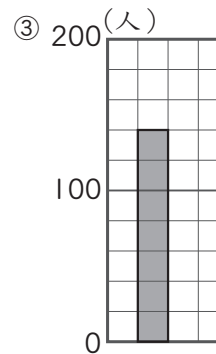
1めもりの大きさ

ぼうが表している大きさ



1めもりの大きさ

ぼうが表している大きさ



1めもりの大きさ

ぼうが表している大きさ

③ 下の表は、ゆみさんの組の人たちが、先週図書館でかりた本について整理したものです。この表をぼうグラフに表しましょう。

1めもりの大きさを考えるといいね。

先週かりた本のしゅるいと数

しゅるい	本の数 (ざつ)
ものがたり物語	14
でんぎ	9
ずかん	6
その他	10
合計	39

