

ぼうグラフと表①

めあて：ぼうグラフを、よんだりかいたりすることができる。

3年 組 番

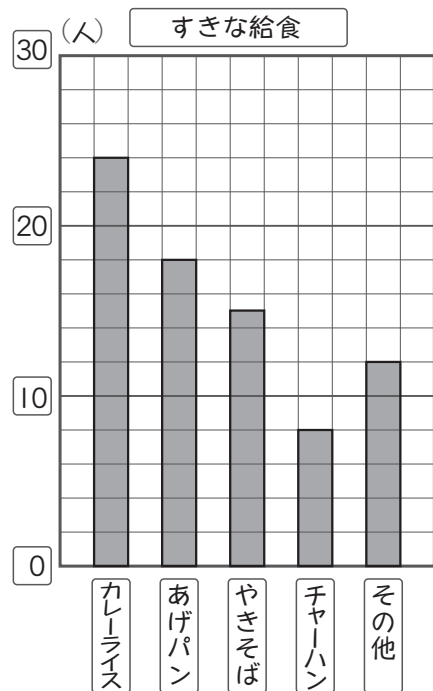
名前

① はやとさんたちは、3年生の好きな給食のメニューを調べて、下のグラフに表しました。

① グラフの1めもりは、何人を表していますか。

2人

② グラフをよんで、表に人数をかきましょう。



メニュー	人数 (人)
しゅるい	
カレーライス	24
あげパン	18
やきそば	15
チャーハン	8
その他	12
合計	77

③ カレーライスの人数は、あげパンの人数より、何人多いですか。

6人

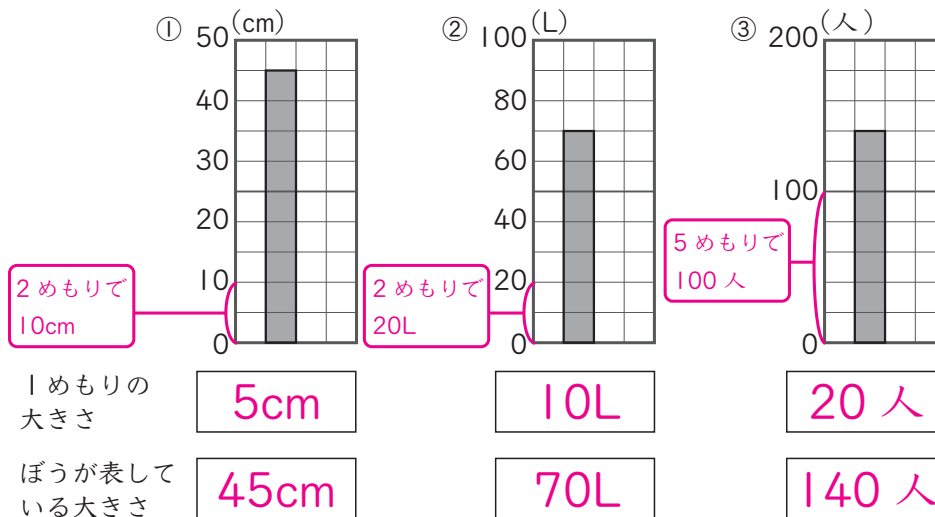
④ カレーライスの人数は、チャーハンの人数の何倍ですか。

3倍



5めもりで10人なので1めもりで2人を表しているね。

② 下のぼうグラフで、1めもりが表している大きさと、ぼうが表している大きさをいみましょう。



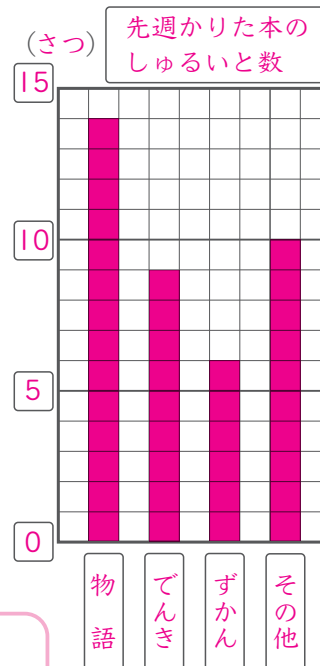
③ 下の表は、ゆみさんの組の人たちが、先週図書館でかりた本について整理したものです。この表をぼうグラフに表しましょう。



1めもりの大きさを考えるといいね。

先週かりた本のしゅるいと数

しゅるい	本の数 (さつ)
ものがたり物語	14
でんき	9
ずかん	6
その他	10
合計	39



「その他」は数が多くてもさいごに書くよ。