


大きい数のわり算、分数とわり算

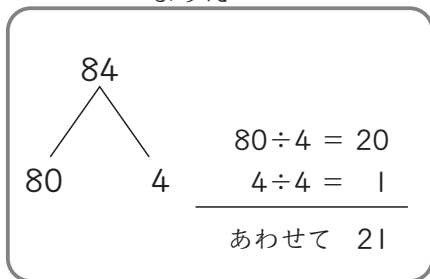
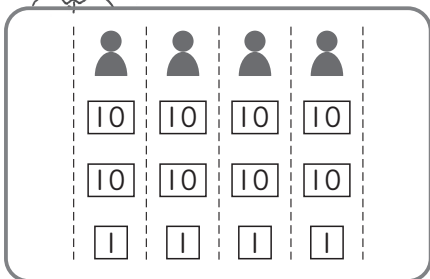
めあて：学習したことを使って、かけ算九九をこえる 3年__組__番
わり算の答えをもとめることができる。
分数とわり算のかん係がわかる。 名前_____

1 計算をしましょう。

 位ごとに分けて計算すれば、答えをもとめられるね。

- ① 60÷2
- ② 80÷2
- ③ 63÷3
- ④ 82÷2
- ⑤ 48÷4
- ⑥ 99÷9

2 84本のえん筆^{びつ}を、4人で同じ数ずつ分けます。
1人分は何本になりますか。



2人の答えのともめ方をせつ明しているものをえらんで、
きごう 記号を書きましょう。

㊦ 84を80と4に分けて、それぞれ80÷4と4÷4の計算をしました。そして20と1をあわせて21になりました。

㊧ はじめに、10のたばを4人に2たばずつ分けて、次にばらを1まいずつ分けると、1人分は21まいになりました。

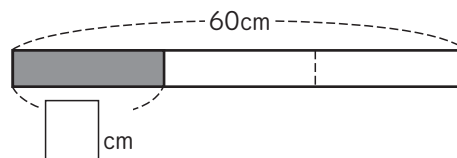
けん 、まりえ

3 80円を、4人で同じ金がかずつ分けます。
1人分はいくらになりますか。

しき 式

答え

4 赤色のリボンの長さは60cmです。
60cmの $\frac{1}{3}$ の長さは何cmですか。



式

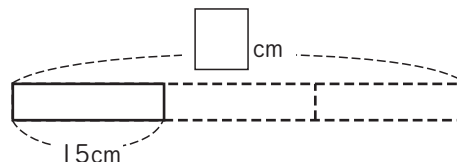
答え

5 88cmの $\frac{1}{4}$ の長さを、わり算を使ってもとめましょう。

式

答え

6 もとの長さの $\frac{1}{3}$ が15cmでした。
もとの長さは何cmですか。



式

答え