

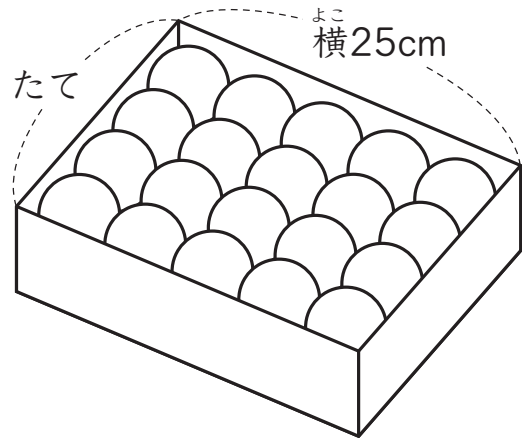
⑫ 円と球

3年
名前

組

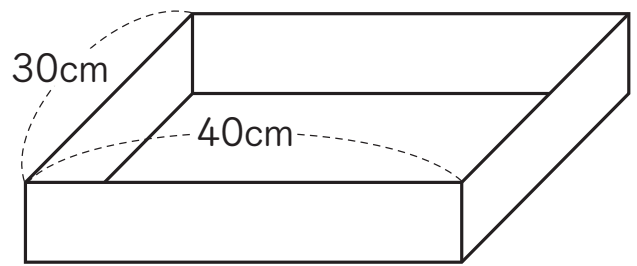
番

1 右の図のように、球の形をしたボールが箱にぴったり入っています。

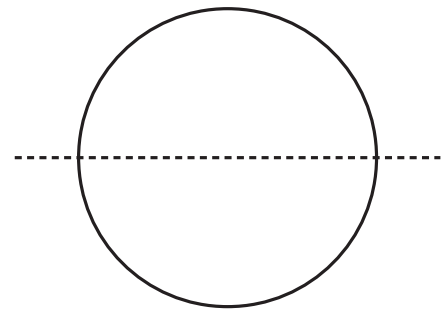


1 箱のたての長さは何cmですか。

2 このボールを右の箱に、上と同じようにぴったり入れます。
ボールは何こ入りますか。



2 球を右のように点線で切ります。真正面から見た切り口は、下のアの図のようになっています。



それでは、①～③のように切って、真正面から切り口を見たとき、形と大きさはどのようになっていますか。ア～オからえらびましょう。

