

円と球

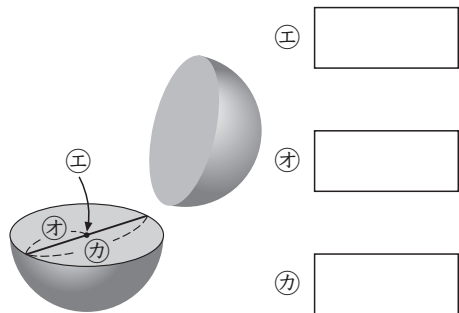
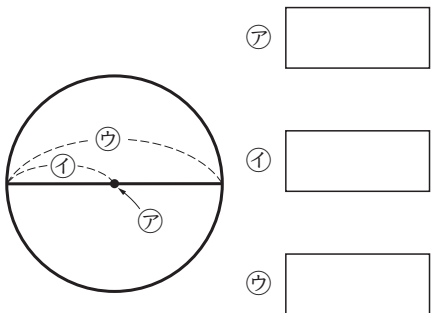
じゅんび…コンパス、ものさし

3年 組 番

めあて：円や球の中心、半径、直径がわかる。
コンパスを使って、円をかくことができる。

名前

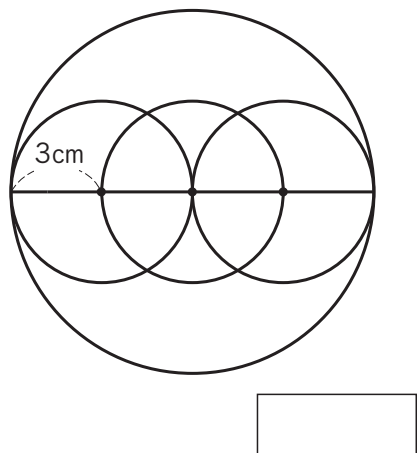
① 下の円や球の図で、ア、イ、ウ、エ、オ、カの名前を答えましょう。



② 下の問題に答えましょう。

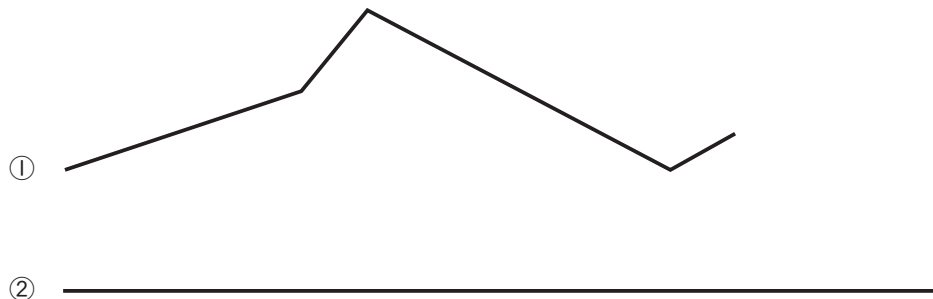
① コンパスで直径6cmの円をかきましょう。

② 小さな円の半径は3cmです。大きな円の直径をもとめましょう。


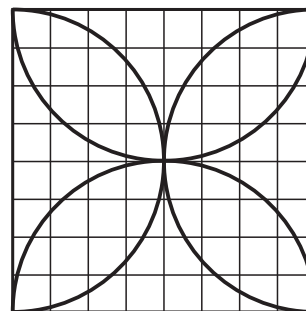


③ ①の線と②の直線では、どちらが長いでしょうか。

答え



④ コンパスを使って、下のもようをかきましょう。



⑤ 右のように、半径5cmのボールが4こぴったり入っている箱があります。箱のたてと横の長さをもとめましょう。

たて 横

