

13

## 小数

3年

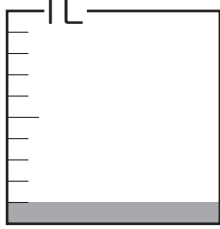
組

番

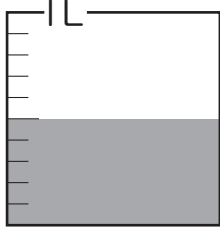
名前

1 水のかさは何dLですか。

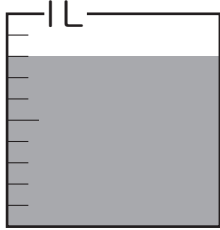
①


 dL

②

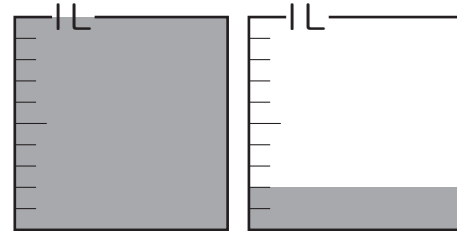

 dL

③


 dL
2  にあてはまる数を書きましょう。① 10を13こ<sup>あつ</sup>集めた数は  です。② 28は、10を  こ、1を  こあわせた数です。

つぎ もんだい がくしゅう  
 ④ 次の問題は、まだ学習していない内ようです。

1 水のかさは何Lですか。小数で  
あらわ  
 表しましょう。


 L