




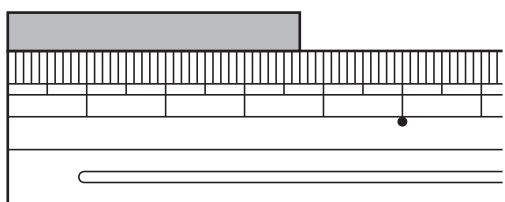
13 小数

3年	組	番
名前		

① 水のかさは、それぞれ何Lですか。
 〈各10点〉



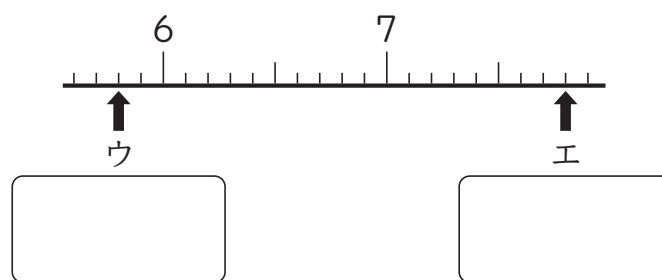
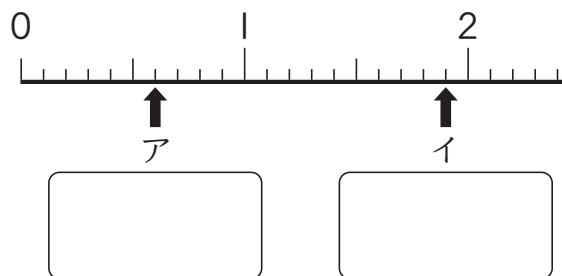
② 下の図を見て答えましょう。
 〈各10点〉



① テープの長さは何cmですか。
 cm

② あと何cmで4 cmになりますか。
 cm

③ 下の数直線で、ア～エのめもりが
 表す小数を書きましょう。
あらわ 〈各5点〉



④ ひっさん 筆算で計算しましょう。
 〈各5点〉

① $3.3 + 2.8$ ② $2.4 + 4.6$

③ $5.3 - 2.7$ ④ $8.7 - 5.7$

⑤ $2.4 + 3$ ⑥ $5 - 1.6$

13 小数

3年	組	番
名前		

① □にあてはまる数を書きましょう。

① 7.4は、7と□をあわせた数です。

② 7.4は、8より□小さい数です。

③ 7.4は、7と、0.1を□こあわせた数です。

④ 7.4は、0.1を□こ集めた数です。

② たくやさんは、 $1.2+0.4$ の計算のしかたを次のように考えました。
□にあてはまる数を書きましょう。

〈たくやさんの考え〉

1.2は0.1の□こ分、

0.4は0.1の□こ分、

あわせて0.1が□こ分だから、

$1.2+0.4=$ □

になります。



「小数」の学習をふりかえってみましょう。

① あなたにあてはまる記号を()に書きましょう。

- ◎ とてもよくできた。
- できた。
- △ あまりできなかった。

- ① すすんで学習できたか。()
- ② いろいろなやり方でちょうせんできたか。()
- ③ 考え方のよいところをたくさん見つけられたか。()

② 学習して思ったことや、さらに学習してみたいことを書きましょう。