

小数①

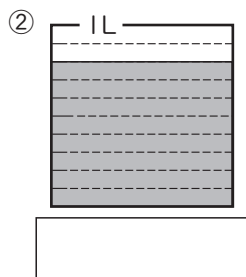
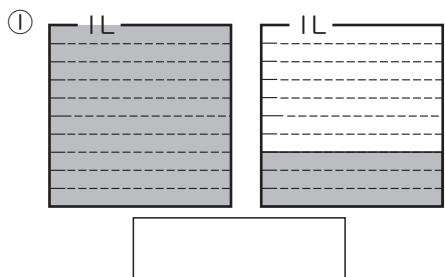
3年 組 番

めあて：小数のしくみや表し方がわかり、はしたの大きさを小数で表すことができる。

名前 _____

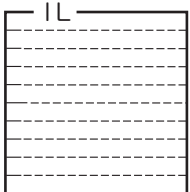
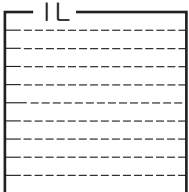
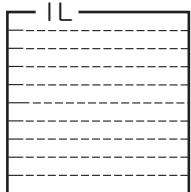
① 下の図で、水のかさは、それぞれ何Lですか。

0.1Lをもとにして、0.1Lが何こ分あるかで表せたね。

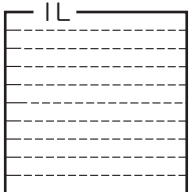


② 水のかさだけ色をぬりましょう。

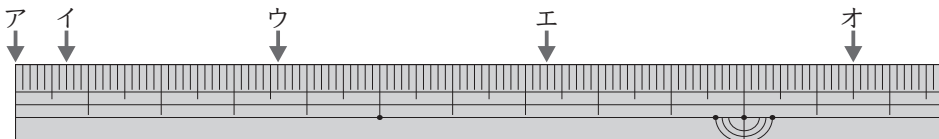
① 2.1L



② 0.6L



③ アから、イ、ウ、エ、オまでの長さは、それぞれ何cmですか。



ア 0cm

イ

ウ

エ

オ

1cmを10等分した1こ分の長さは0.1cmだね。

④ □にあてはまる数を書きましょう。

① 1dL = □ L

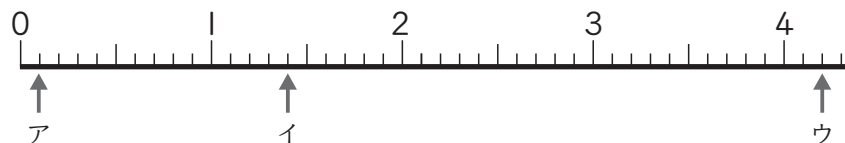
② 4mm = □ cm・・・ノートのおつさ

③ 25cm7mm = □ cm・・・教科書のたての長さ

④ 1L5dL = □ L・・・水とうに入る水のかさ

⑤ 2.5cmは、0.1cmの □ こ分

⑤ 下の数直線を見て答えましょう。



① ア～ウのめもりが表す数を書きましょう。

ア

イ

ウ

② ア～ウは、それぞれ0.1を何こ集めた数ですか。

ア

イ

ウ

③ エ (0.8)、オ (2.6) を表すめもりに↑をかきましょう。

⑥ □にあてはまる不等号を書きましょう。

① 4 □ 4.1

② 0.9 □ 0.6

③ 8.3 □ 3.9

④ 0.8 □ 1.2