

小数①

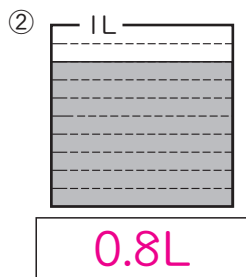
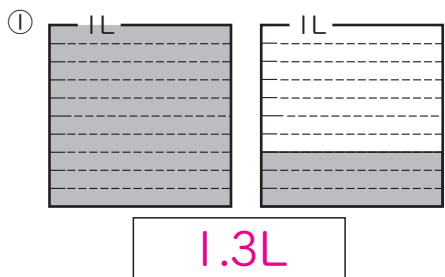
3年 組 番

めあて：小数のしくみや表し方がわかり、はしたの大きさを小数で表すことができる。

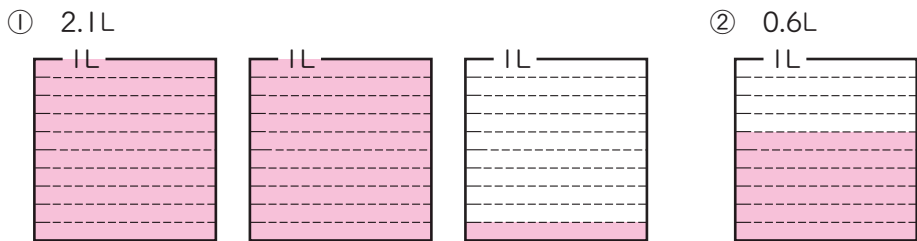
名前 _____

① 下の図で、水のかさは、それぞれ何Lですか。

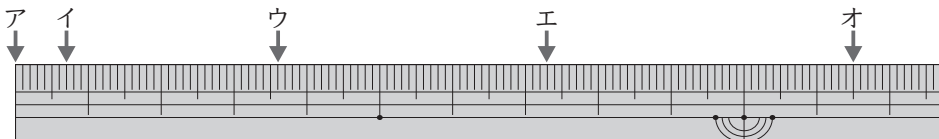
① 0.1L をもとにして、0.1L が何こ分あるかで表せたね。



② 水のかさだけ色をぬりましょう。



③ アから、イ、ウ、エ、オまでの長さは、それぞれ何cmですか。



ア 0cm イ 0.7cm ウ 3.6cm

エ 7.3cm オ 11.5cm

① 1cm を 10 等分した 1 こ分の長さは 0.1cm だね。

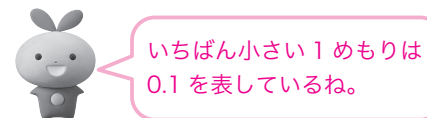
④ □にあてはまる数を書きましょう。

① 1dL = 0.1 L ② 4mm = 0.4 cm …… ノートのあつさ

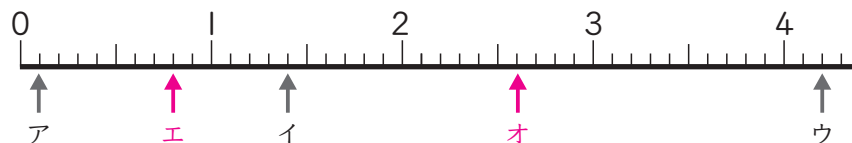
③ 25cm7mm = 25.7 cm …… 教科書のたての長さ

④ 1L5dL = 1.5 L …… 水とうに入る水のかさ

⑤ 2.5cm は、0.1cm の 25 こ分



⑤ 下の数直線を見て答えましょう。



① ア～ウのめもりが表す数を書きましょう。

ア 0.1 イ 1.4 ウ 4.2

② ア～ウは、それぞれ0.1を何こ集めた数ですか。

ア 1こ イ 14こ ウ 42こ

③ エ (0.8)、オ (2.6) を表すめもりに↑をかきましょう。

⑥ □にあてはまる不等号を書きましょう。

① 4 < 4.1 ② 0.9 > 0.6

③ 8.3 > 3.9 ④ 0.8 < 1.2