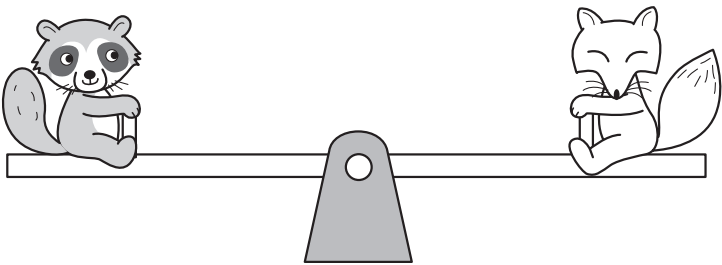


14 重さのたんいとはかり方

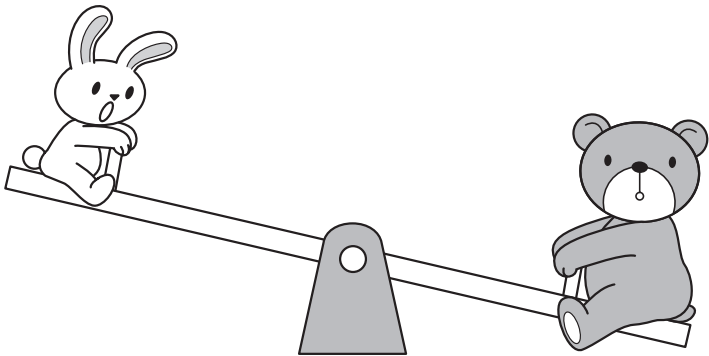
3年	組	番
名前		

1 シーソーに乗っている動物の重さをくらべています。重いのはどちらですか。重いほうに○を書きましょう。同じ重さのときは、「同じ」とどちらかの□に書きましょう。


①



②



2 ねん土のかたまりを、6つに分けてまるめました。ねん土の重さはどうなりますか。下のア、イの正しいほうを、○でかこみましょう。



6つに分けてまるめる。

- ア 数がふえたから、重くなる。
- イ 重さはかわらない。

つぎ もんだい がくしゅう
 ↓ 次の問題は、まだ学習していない内ようです。

1 ランドセルの重さは、何kg何gですか。

