

15

## 分数

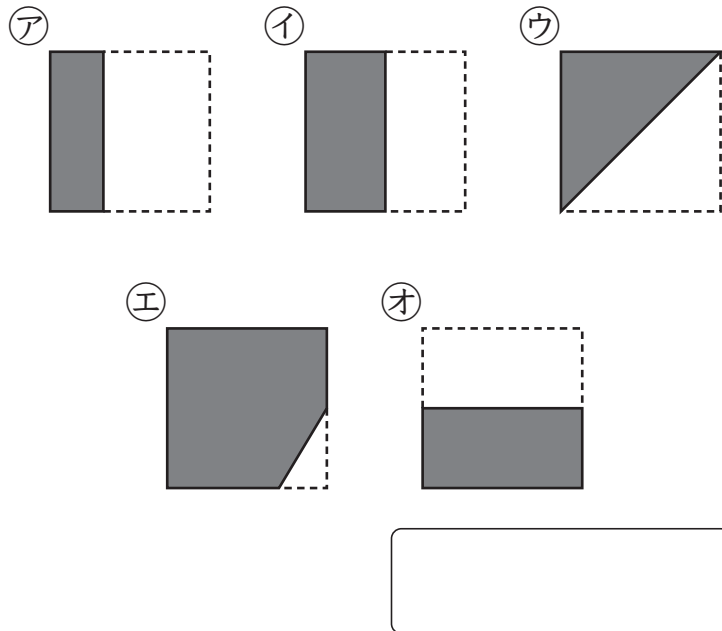
3年

組

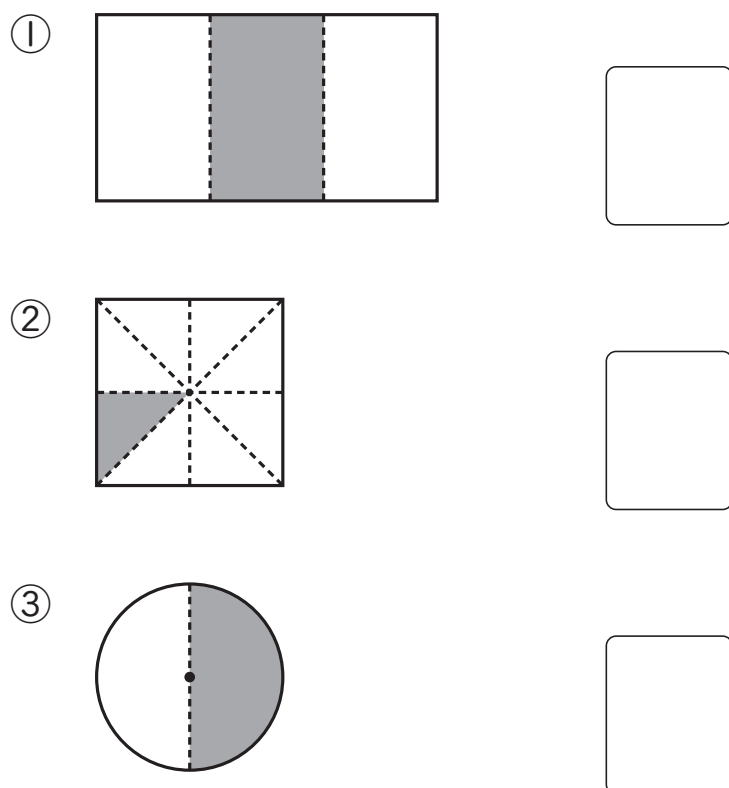
番

名前

- 1 下の図で、黒くぬったところが  
もとの正方形の大きさの $\frac{1}{2}$ になって  
いるのはどれですか。記号で  
答えましょう。

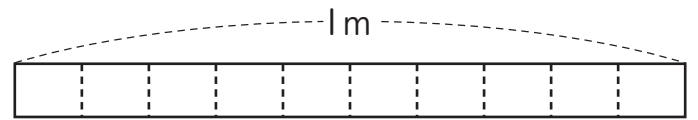


- 2 色のついたところは、もとの  
大きさの何分の一ですか。  
分数で答えましょう。

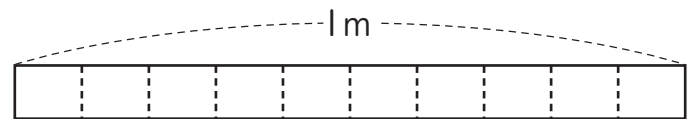


- 3 <sup>つき</sup>次の大きさだけ色をぬりましょう。


- ① 0.3m



- ② 0.7m



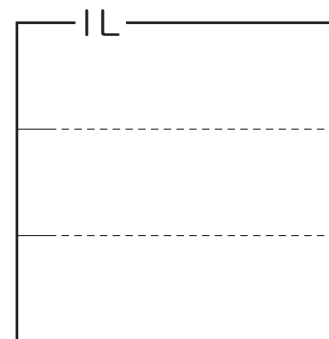
- ③ 0.5L



<sup>つき</sup> <sup>もんだい</sup> <sup>がくしゅう</sup>  
次の問題は、まだ学習していない内ようです。

- 1 次の大きさだけ色をぬりましょう。

- ①  $\frac{1}{3}$ L



- ②  $\frac{3}{4}$ m

